

7.
SINIF

5'Li
DENEME

SAYISAL
BÖLÜM

SÖZEL
BÖLÜM

PYBS

Parasız Yıllık ve
Baskılık Sınavına
uygundur.

Deneme	... tarihine kadar olan konuları içerir.
1. Deneme	05 Ocak
2. Deneme	09 Şubat
3. Deneme	22 Mart
4. Deneme	10 Mayıs
5. Deneme	Genel



MOBİL OPTİK OKUMALI

İSLEYİN
ZEKA

7. SINIF DENEME SINAVI

SÖZEL BÖLÜM

1.
Deneme

1. OTURUM

DERS ADI	SORU SAYISI	TOPLAM SORU SAYISI	SINAV SÜRESİ (DAKİKA)
Türkçe	20	50	75
Sosyal Bilgiler	10		
Din Kültürü ve Ahlak Bilgisi	10		
Yabancı Dil (İngilizce)	10		

AÇIKLAMA

- Bu kitapçıkta 7. sınıf sözel bölüm testi bulunmaktadır.
- Bu kitapçıkta testlerde yer alan her sorunun yalnızca bir doğru cevabı vardır.
- Cevap kâğıdı üzerindeki kodlamaları kurşun kalemle yapınız.

Adı :

Soyadı :

Sınıfı / Şubesi :

Öğrenci No :



Bu testte 20 soru vardır. Cevaplarınızı cevap kâğıdına işaretleyiniz.

1. “Çevirmenin üslubu, kişiliği olmamalı. En iyi çeviri, çevirmeni hissetmediğimiz çeviridir.” diyor Samih Rifat. Bir çevirinin yayımlanmasında çevirmeni anahtar kişi olarak görüyor. “İyi çeviri, yapıtı çevrildiği dile armağan eder; kötü çeviriye öldürür, okuru yanıltır; giderilmesi zor, en azından zaman alan bir zarar doğurur. Ben, bir çeviri yapıtı okuyacağım zaman, önce çevirmenin adına bakarım, kesinlikle kapakta bu adı görmek isterim. Kimi zaman usta bir çevirmenin adı, hiç tanımadığım bir yazarın tanımadığım bir yapıtını okumaya iter beni; kötü çevirilerini bildiğim biri de, okumak istediğim bir kitaptan uzaklaştırır.” diyen Rifat, Türkiye’de iyi çevirinin değerinin bilinmediğini düşünüyor.

Bu metinle ilgili olarak;

- I. Türkiye’de çeviri alanında önemli gelişmeler kaydedildiği
- II. Samih Rifat’ın önemli çevirmenlerimizden biri olduğu
- III. Bir çeviride en önemli unsurun çevirmen olduğu
- IV. Yazarın çevirmen ismine göre kitabı okumaya karar verdiği veya okumaktan vazgeçtiği

İfadelerinden hangilerine ulaşılabilir?

- A) I ve II. B) I, II ve III.
C) II, III ve IV. D) III ve IV.

2. 1914’te İstanbul’da doğan şair Kuleli Askeri Lisesini, Harb Okulunu bitirdi. Orduda on beş yıl hizmetinin ardından askerlikten ayrıldı. Yayımcılık yaptı, Türkçe adında bir dergi yayımladı. İlk kitabı Havaya Çizilen Dünya’da ölçülü, uyaklı, âşık tarzı şiirleri bulunuyordu. Çocuk ve Allah adlı ikinci kitabıyla büyük ilgi gördü. En yetkili kalemlerde uyandırdığı ilgi ve dikkati yıllarca eksiltmeden sürdürerek Cumhuriyet devrinin en kuvvetli şairlerinden oldu.

Bu metnin türü aşağıdakilerden hangisidir?

- A) Otobiyografi B) Biyografi
C) Günlük D) Haber metni

3. Sabah okula kahvaltı yaparak ve erken gelen öğrenciler, kahvaltı yapmadan ve geç gelen öğrencilere göre daha başarılıdır. Bundan dolayı sabahları mutlaka kahvaltı yapmalısınız. Kahvaltıda kuru üzüm, bal, incir ve pekmez gibi glikoz içeren gıdalardan birini mutlaka yemelisiniz. Unutmayın; düzenli kahvaltı yapmak öğrenme, dikkat, verimlilik, düşünce gücünde artış ve fiziksel dayanıklılık açısından son derece olumlu etki yapmaktadır.

Bu metnin anlatımı için aşağıdakilerden hangisi söylenebilir?

- A) Kurgusal bir metindir.
B) Olaya dayalı yazılmış bir metindir.
C) Öğretici bir metindir.
D) İkilemelerden yararlanılmıştır.

4. Uğur Mumcu’nun çok sevilmesinin nedenlerini hiç düşündünüz mü? Konuşmasındaki yalın dil ve samimiyet yazılarına da egemendi. Çok sevilmesinin nedenlerinden biri de içtenlikli diliydi. Dürüstçe, dosdoğru anlattığı için herkes onu anlıyordu. Ülkesini, insanları, dilini, işini, ailesini ve dostlarını içtenlikle sevmesi, Türk Devrimini doğru anlayıp değerlendirmesi onu kitlelerle buluşturmuştu. Ben düşündüm, çok çalışıyor, araştırıyor ve bunları herkesin anlayacağı dille yazıyordu.

Bu metinde anlatılmak istenen aşağıdakilerden hangisidir?

- A) Çok çalışan insanlar, ülkesine hizmet edenlerdir.
B) Samimi bir dille yazan insanlar sevilir.
C) Uğur Mumcu, Türk dünyasının en değerli insanlarındandır.
D) Uğur Mumcu’nun kişilik özellikleri, onun çok sevilmesinde etkilidir.

5. Bir insan özgür doğar ama toplum onun bu özgürlüğünü bitirir. Birçok alanda kalın çizgilerle örülmüş dar bir alanda yaşamaya mahkum edilir. İnsan buna doğal olarak alışır. Sadece alışmakla kalmaz, bir zaman sonra ya bu yasakların koruyucusu olur ya da bu yasakları koyan kişi. Acaba bu durum, kişinin iradesiyle mi oluşur, diye bir soru yönelttiğimizde cevabı da ilginçtir: Önce kişinin iradesine hakim olan bu durum daha sonra kişilerin iradesi sayesinde ayakta kalır.

Bu metinden çıkarılamayacak sonuç aşağıdakilerden hangisidir?

- A) Birçok insan, çok da razı olmayacağı sınırlar içinde yaşamaya zorlanır.
B) Yasaklardan memnun olmayan kişi, hayatının sonuna kadar buna alışamaz ama yapacak bir şeyi de yoktur.
C) Bazı durumlarda insan, yasakları hem koyan hem de koyduğu yasakların koruyucusu olur.
D) Özgür doğan insanlar, zamanla toplum içerisinde özgürlüklerini kaybeder.
6. 27 Aralık'ta ölümünün 83. yılında andığımız millî şairimiz Mehmet Akif Ersoy, edebiyat tarihinde adı en çok anılan isimlerden biri. Şiirlerini bir araya getirildiği "Safahat" da Türkiye'de en çok basılan, satılan kitaplardan... Buna rağmen hakkında bilinmeyenlerin olması, hayatıyla ilgili yeni bilgilerin, hiçbir yerde yayımlanmamış şiirlerinin çıkması şaşırtıcı.

Bu cümlelerden hareketle aşağıdakilerden hangisi kesinlikle söylenemez?

- A) Mehmet Akif'in şiirlerini bir araya getirdiği kitabın adı Safahat'tır.
B) Mehmet Akif, adından en çok bahsedilen edebiyatçılarımızdan biridir.
C) Mehmet Akif'in ölüm yıldönümü 27 Aralık'tır.
D) Mehmet Akif gibi hakkında birçok bilmediğimiz şey olan sayısız büyüğümüz vardır.

7. "Anlamak" eyleminin geniş zamanın olumsuzu, 2. çoğul kişi, soru çekimi aşağıdakilerin hangisinde doğru olarak yazılmıştır?

- A) Anlayamaz mısın? B) Anlamaz mısınız?
C) Anlamaz mıyız? D) Anlamamışsınız

8. Türkiye'nin en önemli kültür davası hiç şüphesiz dil davasıdır. O, bütün davaların başında gelir. Onu halletmedikçe kültürle alakalı diğer meseleleri halletmeye imkân yoktur. Çünkü düşünce ve duyguları nesilden nesile, insandan insana aktarma vasıtası olan dil, her türlü kültür faaliyetinin temelini oluşturur. İnsanoğlu, dil vasıtasıyla dile dayanarak düşünür ve bilgi edinir. Bir milletin dilini bozdunuz mu onun bütün kültür faaliyetini aksatmış, geçmiş ile olan alakalarını kesmiş olursunuz. Dili altüst edilmiş bir millet, kendisini yaşatan kültürel kıymetlerden yoksun kaldığı gibi, geleceğini yaratacak olan toplumsal bir fikir düzeni de kuramaz.

Bu parçaya getirilebilecek en uygun başlık aşağıdakilerden hangisidir?

- A) Yabancı Dil B) Dilin Önemi
C) Kültürel Yozlaşma D) Dilin Kuralları

9. I. Gazetelerin pek çoğu sanat ve kültür haberlerine yer vermiyor.
II. Günümüzde gazete satışlarının çok iyi olduğu herkesçe biliniyor.
III. Oysa eskiden neredeyse tüm gazetelerin kitap eki de vardı.
IV. Çünkü sanat, kültür haberlerinin gazete satışlarını olumsuz yönde etkileyeceğini düşünüyorlar.
V. Hafta içi veya hafta sonunda verdikleri eklerde sanat, kültür haberlerine yer veriyorlardı.

Yukarıda karışık olarak verilen cümlelerle anlamlı bir paragraf oluşturulmak istense sıralama nasıl olmalıdır?

- A) II – I – IV – III – V B) III – I – II – IV – V
C) II – III – IV – II – V D) II – IV – III – II – I



10 ve 11. soruları aşağıdaki metne göre cevaplayınız.

Dağda dolaşırken yakma kandili,
Fersiz gözlerimi dağlama gurbet!
Ne söylemez, akan suların dili,
Sessizlik içinde çağlama gurbet!
Titrek parmağınla tutup tığını.
Alnıma işleme kırışığını
Duvarda emerek mum ışığını,
Bir veremli rengi bağlama gurbet!
Gül büyütenlere mahsus hevesle,
Renk dertlerimi gözümde besle!
Yalnız, annem gibi, o ılık sesle,
İçimde dövünüp ağlama gurbet!
Necip Fazıl KISAKÜREK

10. Şiirde şair kime seslenmektedir?

- A) Geçmişine B) Vatana
C) Gurbete D) Kendine

11. Şiirde aşağıdaki söz sanatlarından hangisine yer verilmiştir?

- A) Abartma B) Kişileştirme
C) Konuşurma D) Tezat

12. Aşağıdaki cümlelerin hangisinde virgül cümleden çıkarılırsa cümlenin anlamı değişmez?

- A) Çocuk, kıyafetlerini makineden çıkarıp sepete koydu.
B) Genç, adama köyün yolunu tarif etmeye başladı.
C) O, kitabı bugün bitirip hemen kütüphaneye götürecekmiş.
D) Kitaplarını, kalemlerini fazlasıyla düşündüğü için kimseye vermezdi.

13 ve 14. soruları aşağıdaki metne göre cevaplayınız.

İki gün sonra arkadaşlarımla bir okul gezisine gidecekdik. Gezi için bütün hazırlıklar tamamdı. Okul servisi ayarlanmıştı. Velilerimiz kendi aralarında konuşup yiyecek meselesinide halletmişti. Geriye sadece Cumartesi gününü beklemek kalıyordu; ama hesap ta olmayan bir aksilik oldu ve Cuma akşamı çok şiddetli kar yağdı. Bütün yollar kapandı. Hevesimiz kursağımızda kalmıştı. Neyse, kismet değilmiş, dedik ve yağın karın tadını bahçede kardan adam yaparak çıkardık.

13. Bu metinde altı çizili sözlerle anlatılmak istenen aşağıdakilerin hangisinde sırasıyla verilmiştir?

- A) Daha önce düşünülen şeylerin dışında olmak – İsteddiği şeyi elde edememek
B) Yaşamın tadına varamamak – Hedefine ulaşmak için fırsat kollamak
C) Gücünün yetmediği şeyler istemek – Hayal kırıklığına uğramak
D) Ne olacağını hesaplayamamak – Bir şeyi yapmayı çok istemek

14. Bu metinde toplamda kaç tane yazım ve noktalama yanlışı yapılmıştır?

- A) 3 B) 4 C) 5 D) 6

15. Aşağıdaki cümlelerin hangisinde zaman (anlam) kayması vardır?

- A) Yarın yeni bir iş görüşmesine gidiyorum.
B) İnsanlar gördükleri, duydukları her şeye inanamalı.
C) Sınava girene kadar bu konuyu çok iyi anladığımı sanıyordum.
D) Dün teyzemle çarşının ortasında karşılaştık.

16. Aşağıdaki cümlelerden hangisinin yüklemi durum fiilidir?

- A) Muhallebi göz göz olunca ocağı kapat.
B) Çekmecenin gözündeki kalemi aldı.
C) Gözü ağrıdığı için ışığı söndürdü.
D) Çocuk, ağaçların altında durdu.

17. Aşağıdaki cümlelerin hangisinde yansımadan türemiş bir eylem vardır?

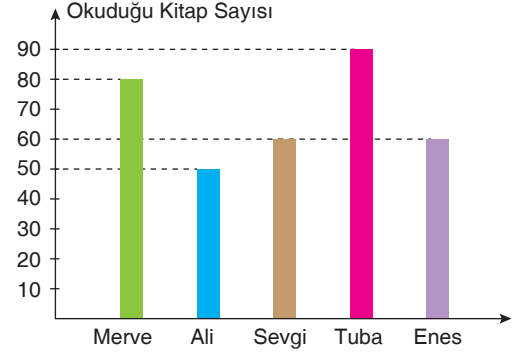
- A) Şehirden uzaklaştıkça radyonun cızırtısı da arttı.
B) Konuyu tam bilmemesine rağmen çat pat bir şeyler anlatmaya çalışıyordu.
C) Tiyatroda olmalarına rağmen iki arkadaş ha bire fısıldaşıyordu.
D) Miyavlayan kedilerin yanına çömelip onlara yemek verdi.

18. Fillerin zamanını, yönünü, miktarını ve nasıl yapıldığını belirten sözcüklere zarf denir.

Buna göre aşağıdaki cümlelerin hangisindeki zarfın türü diğerlerinden farklıdır?

- A) Soğuk hava haftaya etkili olacakmış.
B) Anneler öğretmenleri dikkatle dinliyordu.
C) Her gün eve 10 kilometre yürüyerek gidiyor.
D) Tüm söylediklerimi yanlış anlamış.

19. Aşağıdaki grafikte sınıf arkadaşı olan beş öğrencinin bir dönemde okudukları kitap sayıları gösterilmektedir.



Bu grafiğe göre aşağıdakilerden hangisi söylenemez?

- A) En çok kitap okuyan öğrenci Tuba'dır.
B) Sevgi ve Enes eşit sayıda ve aynı kitapları okumuşlardır.
C) Merve ve Tuba'nın okudukları kitaplarda 10 sayılıklı bir fark vardır.
D) Ali, en az kitap okuyan öğrenci olarak son sıradadır.

20. Lunaparkta A, B, C olmak üzere üç oyuncak vardır. Her oyuncakta sadece iki kişi binebilmektedir. Lunaparka giden Murat, Nuri, Ahmet, Ufuk, Yaşar ve Sedat oyuncaklara ikişerli olarak binmişlerdir.

Bu kişiler ve bindikleri oyuncaklarla ilgili şunlar bilinmektedir:

- Yaşar B oyuncakına binmiştir.
- Ahmet C oyuncakına binmemiştir.
- Ufuk; Yaşar'la aynı oyuncakta binmemiştir.
- Sedat ve Nuri, aynı oyuncakta binmiştir.
- Ufuk ve Murat aynı oyuncakta binmiştir.

Bu bilgilere göre aşağıdakilerden hangisi kesinlikle doğrudur?

- A) Murat, A oyuncakına binmiştir.
B) Ahmet, B oyuncakına binmiştir.
C) Nuri, C oyuncakına binmiştir.
D) Sedat, A oyuncakına binmemiştir.

Türkçe testi bitti.

Sosyal Bilgiler testine geçiniz.

Bu testte 10 soru vardır. Cevaplarınızı cevap kâğıdına işaretleyiniz.

1. Avrupa'da XV. ve XVI. yüzyılları arasında;
- Eski uygarlıklara ait eserler Müslümanların kaynaklarından alınarak çevirileri yapıldı.
 - Avrupa'da Burjuva sınıfının sanat ve bilimle uğraşanlara destek olmaları sanat, kültür ve bilimde ilerlemelere katkı sağladı.
 - Çeşitli eserlerin incelenmesi bilim, kültür ve sanat ile uğraşanların ufkunu açtı.

Bütün bu gelişmeler Avrupa'da XV. ve XVI. yüzyıllarda aşağıdaki gelişmelerden hangisine neden olmuştur?

- A) Rönesans B) Reform
C) Aydınlanma Çağı D) Fransız İhtilali

2. Aşağıda iletişim sorunlarına neden olan bazı ifadeler verilmiştir.

- Aynı ses tonu ile sıkıcı konuşma,
- Dinleyiciye karşı ön yargılı olma,
- Dinleyicinin seviyesine uygun konuşmama,
- Yanlış anlaşılmaya neden olacak ifadeler kullanma

Verilen ifadeler için,

- I. Dinleyiciden kaynaklanan problemlerdir.
II. İletişim aracından kaynaklanan problemlerdir.
III. Konuşmacıdan kaynaklanan problemlerdir.

Yorumlarından hangileri doğrudur?

- A) Yalnız III. B) I ve II.
C) II ve III. D) I, II ve III.

3. Tımar; Senelik geliri 19.999 akçeye kadar olan dirliklere denir. Tımarlar hizmet karşılığında sipahi askerlere verilir. Tımar sahipleri senelik gelirlerinden kılıç adı verilen belirli bir kısmın ayrılmasından sonra geriye kalan gelirin her üç bin akçesi için bir asker beslemek mecburiyetindedir.

Bu bilgilere göre Osmanlı Devleti'nde Tımar sistemi aşağıdakilerden hangisine doğrudan katkı sağlamıştır?

- A) Kültür B) Diplomasi
C) Ordu D) Donanma

4.



Yukarıda verilen görseli iletişim açısından değerlendirdiğimizde;

- I. Aralarında iletişim çatışması yaşanmaktadır.
II. Aralarında sen dili ağırlıklı bir iletişim söz konusudur.
III. Birbirlerine karşı empati yapma yolunu tercih etmektedirler.

Yorumlarından hangileri yapılabilir?

- A) Yalnız I. B) I ve II.
C) II ve III. D) I, II ve III.

5. Etkili iletişim, hem doğru dinlemeye hem de doğru konuşmaya bağlıdır. Etkileyici konuşma ve etkin dinleme yapabilmek için kitap okuma alışkanlığı kazanmalıyız. Okuduğumuz her kitap kelime dağarcığımıza yeni kelimeler ekler. Bu da insanın daha fazla kavramla düşünebilmesini, kendisini daha iyi ifade edebilmesini ve karşısındakini daha iyi anlayabilmesini sağlar. İletişim sürecinde insanlar %7 oranında konuşulan sözleri, %38 oranında ses tonunu ve %55 oranında beden dilini dikkate alırlar.

Bu bilgilere göre etkili iletişimle ilgili olarak;

- I. Yaptığımız konuşmalardaki kelime dağarcığımızı kitap okuyarak geliştirebiliriz.
II. Karşımızdaki kişileri etkileyebilmek için beden hareketlerimize dikkat etmemiz gerekir.
III. Etkili iletişim için gerektiği yerde konuşmalı gerektiği yerde susmalıyız.

Yargılarından hangilerine ulaşılabilir?

- A) Yalnız I. B) I ve II.
C) II ve III. D) I, II ve III.

6. Osmanlı tarihinde ilk defa Lale Devri ile Batı kültürü ve kurumlarına yoğun bir ilgi başlamıştır. Lale Devri'nde Osmanlılar, Batılılar ve bilhassa Fransızlarla iyi ilişkiler kurmuşlardır. Lale Devri'nde birçok yenilik yapılmıştır. Bu dönemde ilk kez Avrupa'da geçici elçilikler oluşturulmuştur. İlk kez "çiçek aşısı" uygulanmıştır. Çini atölyeleri açılmıştır. 1720 yılında tulumacıların yerine "İtfaiye teşkilatı" kurulmuştur. İtfaiye teşkilatı Osmanlı tarihinde batı örnek alınarak kurulan ilk teşkilat olmuştur. İlk Osmanlı matbaasının kurucusu İbrahim Müteferrika basma yöntemiyle kitap çoğaltmanın yararları ve gerekliliği üzerine bir risale yazmış, sadrazama sunmuş ve matbaa kurmak için izin istemiştir. Matbaanın kurulmasına işimizi kaybederiz korkusuyla hattatlar itiraz etmiş, matbaada dinî kitaplar basılmayacağı söylenince itirazlarına son vermişlerdir. Böylece Lale Devri'nde Said Çelebi ile İbrahim Müteferrika 1727'de ilk Osmanlı matbaasını kurmuştur. Matbaa sayesinde kitap sayısı artmış ve fiyatı ucuzlamıştır. Bilginin yayılması kolaylaşmıştır.

Bu bilgilere göre Lale Devri'nde;

- I. siyasi,
- II. sağlık,
- III. kültürel

alanlarından hangilerinde yenilikler yapıldığı söylenebilir?

- A) I ve II. B) I ve III.
C) II ve III. D) I, II ve III.

7. Osmanlı Beyliği'nin yurt edindiği topraklar Bizans İmparatorluğu'nun büyük kent ve kasabaları ile komşuydu. Önemli ticaret yolları üzerindeki bu şehirler ile yapılan ticareten Osmanlı Beyliği önemli gelir elde ediyordu. Buraların fethedilmesi mevcut ekonomik kaynakların Osmanlı Beyliği'ne geçmesini sağladı. Osmanlı Beyliği kurulduğu sırada Anadolu'da ve Balkanlarda güçlü devletler yoktu. Bu durum Osmanlı Beyliği'nin büyümesini kolaylaştırmıştır. Bu dönemde Bizans İmparatorluğu iç karışıklıklarla uğraşmaktaydı. Bizans İmparatoru kimi zaman kendisine bağlı "tekmur" denilen bölgesel yöneticilere bile söz geçiremiyordu.

Bu bilgilere göre Osmanlı Beyliği'nin büyüdüğü dönemle ilgili olarak,

- I. Komşu devletlerin siyasal durumları büyüme-lerinde etkili olmuştur.
- II. Bulunduğu bölgenin ekonomik avantajlarından faydalanmıştır.
- III. Bulunduğu coğrafyanın çevresindeki ülkelerde merkezi otorite zayıftır.

durumlarından hangileri söylenebilir?

- A) Yalnız I. B) I ve II.
C) II ve III. D) I, II ve III.

8. İnsanlık tarihi boyunca haberleşme için farklı araçlar kullanılmıştır. Bu araçların çeşitliliği ve fonksiyonları zamanla gelişim göstermiştir. Ülkemizde 1927'de radyonun, 1968'de televizyonun faaliyete geçmesi yeni iletişim araçlarının hayatımıza hızla girmesini sağlamıştır. İkili iletişim amacıyla kullandığımız bazı araçlar, teknolojik gelişmeler sonucu sosyal haberleşme aracı hâline gelmiştir. Örneğin telefon iki kişi arasında sözlü-işitsel bir iletişim aracı olarak kullanılıyordu. Günümüzde akıllı telefon işitsel, görsel ve birçok fonksiyonu olan etkileşimli bir araç hâline gelmiştir. Teknoloji sayesinde iletişim araçlarının çeşitliliği artmıştır. Günümüzde görsel, işitsel, hem görsel hem de işitsel birçok iletişim aracı kullanıyoruz. Geleneksel iletişim araçları yanında kitle iletişim araçlarının çeşitliliğinin artması "medya" kavramını ortaya çıkarmıştır.

Bu bilgilere bakılarak iletişim serüveniyle ilgili olarak aşağıdakilerden hangisine ulaşamaz?

- A) Günümüzde en yaygın kitle iletişim aracı televizyondur.
B) İletişim araçlarının fonksiyonları zaman içerisinde değişkenlik geçirmiştir.
C) Teknolojideki gelişmeler iletişim teknolojisinin de değişimine ve gelişmesine neden olmuştur.
D) İletişim araçları içerisinde radyo ülkemizde televizyondan daha önce kullanılmaya başlamıştır.



9. Padişah bir gece düşünde tüm dişlerinin döküldüğünü, yemek bile yiyemez hale geldiğini görür. Sıkıntı içinde uyanır. Vezirini çağırıp, sarayın rüya tabircisinin hemen huzuruna getirilmesini buyurur. Uyku sersemi tabirci başı yanına gelince, Padişah düşünü anlatıp sorar:

“Tabirci başı bu rüya hayır mıdır, şer midir? Neye işaretir, hele bir söyle.”

Tabirci başı biraz düşünür, sonra utana sıkıla, “Şerdir, Padişahım,” der. “Ne yazık ki, tüm yakınlarınızın gözle rinizin önünde birer birer ölüp, sizi yapayalnız bıraktıklarını göreceksiniz.”

Bir an sessizlik olur, ardından Padişah kükrer : “Tez atın şunu zindana, felaket habercisi olmak neymiş öğren sin!” Tabirci başı yaka paça götürülüp, zindana atılır.

Padişah bir başka tabircinin bulunmasını emreder.

Huzura getirilen ikinci tabirciye de rüyasını anlatıp sorar, “hayır mıdır, şer midir?” der.

İkinci tabirci daha önceki tabircinin başına gelenleri duyduğu için uzun uzun ve korku dolu gözlerle düşünür. Birden gözleri gülümser ve yüzü aydınlanarak cevap verir;

“Hayırdır, Padişahım!” der. “Bu rüya tüm yakınlarınızdan daha uzun yaşayacağınızı gösterir. Daha nice sene ler boyu ülkenizi yönetebileceksiniz.”

Padişah ağzı kulaklarında buyurur :”Bu tabirciye iki kese altın verin!”

Başından sonuna durumu izlemiş olan vezir çıkarken, tabirciye sorar:

“Aslında sen de, tabirci başı da aynı şeyi söylediniz. Neden onu cezalandırdı da seni ödüllendirdi?”

Tabirci güler. “Elbette aynı şeyi söyledik, ama ---?”

Verilen olay incelendiğinde soru işareti (?) ile gösterilen yer aşağıdakilerden hangisiyle tamamlırsa iletişim bütünlüğü oluşur?

- A) ne söylediğiniz kadar, nasıl söylediğiniz de önemlidir. B) benim sözlerime padişah daha çok güvenir.
C) ben olayın anlaşılmasını zorlaştırdım. D) ben olayı saptırdım.

10. Osmanlı Devleti fethedilen topraklarda kalıcı olmak için “istimâlet politikası“ uygulamıştır. Bu politikanın amacı fethedilen topraklardaki insanların devlete olan bağlılıklarını güçlendirmektir. Osmanlı Devleti bir yandan fetihleri gerçekleştirirken bir yandan da istimâlet politikası ile farklı millet ve kültürleri bir arada yaşatmayı başarmıştır. İstimâlet siyaseti dört aşamada gerçekleşmiştir:

1. Fetih öncesi hazırlık 2. Fetih sonrası halkın alıştırılması
3. Adil yönetim anlayışı 4. Halka tanınan din, dil ve kültürel özgürlükler

Buna göre aşağıdaki olaylardan hangisi istimâlet politikasının 3. aşamasına örnek oluşturmaktadır?

- A) II. Mehmet İstanbul’u fethettikten sonra şöyle bir emir yayınlamıştır: “Bu şehirde yaşayan insanlar artık saklandıkları yerlerden çıksınlar. Özgür oldukları için kendilerine soru sorulmayacak. Şehri daha önce terk etmişlerin ve mülklerini kaybetmişlerin eşyaları hak sahiplerine tekrar verilecek...”
B) II. Mehmet’in fetih için yaptığı tüm hazırlıkları yaşamış olduğu çağın bilim ve teknolojisinden faydalanarak gerçekleştirmiştir. Bu teknolojinin de yardımıyla II. Mehmet 54 gün içerisinde geçilmez sanılan surları yıkıp fethi gerçekleştirmiştir.
C) II. Mehmet toprakları içerisinde yaşayan tüm halkına ayırım gözetmeksizin eşit şekilde yaklaşmış ve onların sevgisini kazanmıştır.
D) II. Mehmet küçük yaştan itibaren iyi bir eğitim almıştır. “Avni” lakabıyla şiirler yazacak kadar edebiyat bilgisine, topların tasarımını yapacak kadar matematik ve mühendislik bilgisine sahip olmuştur.

1. Deneme

DİN KÜLTÜRÜ VE AHLAK BİLGİSİ

Bu testte 10 soru vardır. Cevaplarınızı cevap kâğıdına işaretleyiniz.

1. • **Hafaza Melekleri:** ---- melekler
• **Kıramen Kâtibin Melekleri:** Yaptıklarımızı kaydeden melekler
• **Münker-Nekir Melekleri:** ---- görevli melekler
• **Azrail:** Allah'ın (c.c.) izniyle eceli gelenlerin canlarını almakla görevli melek
• **İsrafil:** ---- melek
• **Cebrail:** Allah'ın bildirdiği mesajları peygamberlere ulaştırmakla görevli melek
• **Mikail:** ---- görevli melek.

Yukarıdaki dört boşluğa meleklerin görevleri açısından sırasıyla hangisi gelmelidir?

- A) Dua eden - Vahiy almakla - Sûr'a üfleyecek - Tabiat olaylarıyla ilgilenen
B) Arş'ı taşıyan - Korumakla - Tabiat olaylarıyla ilgilenen - Sûr'a üfleyecek
C) Koruyucu - Sûr'a üflemekle - Tabiat olaylarıyla ilgilenen - Sorgulamakla
D) Koruyucu - Sorgulamakla - Sûr'a üfleyecek - Tabiat olaylarıyla ilgilenen

2.

I.	Hac farzdır.	Umre vaciptir.
II.	Hac sadece yılın belirli günlerinde yapılır.	Umre hac günleri dışında her zaman yapılır.
III.	Haccın farzı ikidir. İhrama girmek ve Kabe'yi tavaf etmek.	Umrenin şartı ikidir. Kabe'yi tavaf etmek ve Say yapmak.
IV.	Hacda vakfe ve şeytan taşlama vardır.	Umrede kurban kesme ve vakfe yoktur.

Yukarıdaki tabloda Hac ve Umre ibadeti arasındaki farklar verilmiştir.

Buna göre tabloda verilenlerden hangileri yanlıştır?

- A) I ve II. B) I ve III.
C) II ve IV. D) III ve IV.

3. Melekler nurdan yaratılmış varlıklardır. Erkeklik ve dişilik özellikleri yoktur. Yeme, içme, uyuma, evlenme gibi ihtiyaçları yoktur. Sürekli olarak Allah'a ibadet ederler. İkişer ,üçer ,dörder kanatları vardır. Duyu organları ile algılanamaz ve Allah'ın istediği çeşitli şekillerde görünebilirler.

Bu parçada aşağıdaki ayetlerden hangisinin içeriğine yer verilmemiştir?

- A) "Hamd, gökleri ve yeri yaratan, melekleri ikişer, üçer, dörder kanatlı elçiler yapan Allah'a mahsustur. O, yaratmada dilediğini artırır. Şüphesiz Allah'ın gücü her şeye layıkıyla yeter."
(Fâtır suresi, 1. ayet)
B) "Göklerde ve yer bulunan canlılar ve melekler büyüklük taslamadan Allah'a secde ederler (boyun eğerler)."
(Nahl suresi, 49. ayet)
C) "De ki: Göklerde ve yerde gaybı Allah'tan başka bilen yoktur..."
(Neml suresi, 65. ayet)
D) "Rabbimiz erkek çocukları size verdi de kendisi meleklerden kız çocuklar mı edindi? Gerçekten siz çok ağır bir söz söylüyorsunuz."
(İsra suresi, 40. ayet)

4. "Onların etleri ve kanları asla Allah'a ulaşmaz. Fakat O'na sizin takvanız (Allah'a karşı gelmekten sakınmanız) ulaşır."
(Hac suresi, 37. ayet)

Yukarıda verilen ayette vurgulanmak istenen asıl mesaj hangisidir?

- A) İnsanları birbirinden üstün kılan tek husus takvalarıdır.
B) Kurban kesmek, kan akıtmak önemli değildir.
C) Kurban kesmenin amacı fakirlere dağıtmaktır.
D) İbadetlerde asıl amaç ihlas ve samimiyettir.

5. • “Bugün herkese kazandığının karşılığı verilir. Bugün asla zulüm yoktur. Şüphesiz Allah, hesabı çabuk görendir.”
(Mü’min suresi, 17. ayet)
- “Sizi sürekli gözetleyen ve Allah katında çok değerli olan yazıcılar vardır. Yaptığınızı her şeyi onlar bilir.”
(İnfitar suresi, 10-12. ayetler)
- “Kim (Allah’ın huzuruna) iyilikle gelirse ona getirdiğinin on katı vardır. Kim de kötülükle gelirse o sadece getirdiğinin dengiyle cezalandırılır. Onlar haksızlığa uğratılmazlar.”
(En’âm suresi, 160. ayet)

Yukarıdaki ayetlerle hangisi ilişkilendirilemez?

- A) Allah adaletlidir. Kimseye zulmetmez.
B) Allah çok merhametlidir, dünya hayatında zerre kadar iyilik yapana ahirette karşılığını kat kat verecektir.
C) İnsan Dünyaya ikinci kez gelmeyeceği için burada gününü gün etmelidir.
D) İyi kötü her amelimiz yazılmakta, Allah tarafından görülüp bilinmektedir.

6. Ömer derste bize Hac ibadetinin nasıl yapıldığını şöyle özetledi: (I) Mekke yakınlarındaki Mikat yerlerine geldiğinde abdest alınıp ihrama girilir, hacca niyet edilir. (II) Kâbe’de tavaf yapılır. (III) Safa ve Merve arasında say yapılır. (IV) Buradan Müzdelife’ye hareket edilir ve Müzdelife vakfesi yapılır. (V) Kurban Bayramı’ndan bir gün önce, arife günü Arafat’a gidip vakfe yapılır. (VI) Bayram sabahı Mina denilen yerde sembolik olarak şeytan taşlanır. (VII) Kurban kesilir. (VIII) Tıraş olup ihramdan çıkılır. (IX) Daha sonra tekrar Kâbe’ye gelip ziyaret tavafı yapılır. (X) Sa’y da yapılarak hac ibadeti tamamlanmış olur.

Yukarıdaki anlatımda hac ibadetinin yapılışıyla ilgili hatayı gidermek için hangileri yer değiştirmelidir?

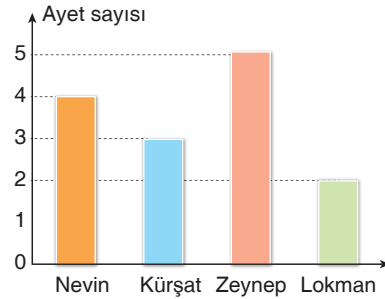
- A) II ve III. B) IV ve V.
C) VI ve VII. D) VIII ve IX.

7. Dünya hayatı Ahiret hayatını kazanmak için bizlere fırsat olarak verilmiştir. Her canlıya yaşama süresi yani ---- verilmiş olup, ---- geldiğinde her canlı ölümü tadacaktır. Ölenler kıyamet kopunca-ya kadar ---- âleminde bekletileceklerdir. Kıyame-
tin kopmasından sonra tekrar yeniden diriliş ba’s olacak, herkes ---- alanında toplanacaktır. Hesap için ---- defterleri açılacak, ---- terazisi kurulacaktır. Sonrası Cennete veya Cehenneme yolculuktur.

Yukarıdaki boşluklara ahiret hayatının aşamalarıyla ilgili sırasıyla hangisi gelmelidir?

- A) Ecel - Ömür - Berzah - Mahşer - Amel - Sırat
B) Ömür - Ecel - Berzah - Mahşer - Amel - Mizan
C) Ecel - Ömür - Berzah - Mahşer - Amel - Mizan
D) Ömür - Ecel - Kabir - Mizan - Amel - Mahşer

- 8.



Nevin, Kürşat, Zeynep ve Lokman, Nas suresini her biri besmele çektikten sonra aynı anda ilk ayetten sırasıyla ezberlemeye başlamıştır. Ders sonunda öğrencilerin ezberlediği ayetler yukarıdaki grafikte gösterilmiştir. Örneğin Nevin ilk dört ayeti ezberleyebilmiştir.

Buna göre “Min şerri’l vesvâsi’l-hannâs.” ayetini ezberleyen kaç kişi vardır?

- A) 1 B) 2 C) 3 D) 4

9. Din kültürü ve ahlak bilgisi öğretmeni 7/B sınıfı öğrencisi Esra'dan ders sonunda dersi özetlemesini istemiştir.

Esra: "Kurban edilecek hayvanın cinsine göre belli bir yaşa gelmesi ve herhangi bir özrünün bulunmaması gerekir. Kurban kesilirken kurbanın ayakları ile yüzü kibleye gelecek şekilde sol tarafına yatırılmalı ve "Bismillahirrahmanirrahim" denilerek kurban edilmelidir. Kurbanı kesecek kişi bu işin ehli olmalıdır. Bu nedenle kurban kesmeyi bilmeyen bir Müslüman, kesim işlemi için bir vekil tayin edebilir. Kurban kesilirken hayvana iyi davranılmalı ve ona eziyet verici davranışlardan kaçınılmalıdır."

Esra dersi özetlerken bir yerde yanlışlık yapmıştır.

Buna göre Esra'nın yanlışının düzeltilmesi için aşağıdakilerden hangisi yapılmalıdır?

- A) Kurban keserken "Bismillahirrahmanirrahim" yerine "Bismillahi Allahu ekber" denilmelidir.
B) Kurban kesmeyi bilmeyen bir Müslüman kesim işlemi için vekil tayin edebilir yerine vekil tayin edemez demeliydi.
C) Kurban kesmek farz değil sünnet bir ibadettir demelidir.
D) Kurban kesilirken hayvana iyi davranılmalı yerine biran önce kesilmesi için hızlı davranılmalıdır demelidir.
10. Peygamberlerin tevhid mücadelesine rağmen Allah'ı (c.c.) inkâr edenler daima var olmuştur. Yüce Allah inanan kimselere karşılık Müslümanların namazıyla, niyazıyla, kurbanıyla, doğumundan ölümüne kadar bütün varlığıyla hayatının tamamını Yüce Allah'a adanmasını emretmiştir. Çünkü hayatlarını Allah'a (c.c.) adayanlar muhakkak kurtuluşa erecektir. İnkâr edenler ve kötülükte direnenler ise Yüce Allah'ın huzuruna varılacağı gün gerçeği apaçık göreceklerdir.

Aşağıdaki ayetlerden hangisi bu parçada verilerek istenen mesajı vurgulamaktadır?

- A) "(Ey Muhammed!) Kitaptan sana vahyolunanı oku, namazı da dosdoğru kıl. Çünkü namaz, insanı hayâsızlıktan ve kötülükten alıkor. Allah'ı anmak (olan namaz) elbette en büyük ibadettir. Allah, yaptıklarınızı biliyor."
(Ankebut Suresi, 45. ayet)
- B) "Yoksa kötülük işleyenler ölümlerinde ve sağıklarında kendilerini, inanıp iyi ameller işleyen kimseler ile bir mi tutacağımızı sandılar? Ne kötü hüküm veriyorlar! Allah, gökleri ve yeri, hak ve hikmete uygun olarak, herkese kazandığının karşılığı verilsin diye yaratmıştır. Onlara zulmedilmez."
(Câsiye suresi, 21-22. ayetler)
- C) "O takva sahipleri ki, bollukta da darlıkta da Allah için harcarlar; öfkelerini yutarlar ve insanları affederler. Allah da güzel davranışta bulunanları sever."
(Âl-i İmrân suresi, 134. ayet)
- D) "Ey Muhammed! De ki: Şüphesiz benim namazım da, diğer ibadetlerim de, yaşamam da, ölümüm de âlemlerin Rabbi Allah içindir."
(En'am Suresi, 162. ayet)

Din kültürü ve ahlak bilgisi testi bitti. İngilizce testine geçiniz.



Bu testte 10 soru vardır. Cevaplarınızı cevap kâğıdına işaretleyiniz.

1. --?--	He never changes his decisions.
--?--	She always thinks of herself & her needs.
--?--	He has many friends at his new school.

Which option isn't explained above in the chart?

- A) stubborn B) outgoing
C) thoughtful D) selfish

2. My name is Adeline. My parents love doing sports. They enjoy going cycling and trekking very much. My brother likes summer sports, but in fact I don't like any of them. I am only interested in team sport such as soccer and volleyball. I play them every Saturday and Sunday.

How often does Adeline do his favourite sports?

- A) He likes football and volleyball most.
B) Twice a week.
C) Only on weekdays.
D) He only does team sports on his own.

3. Abraham Lincoln was born in Kentucky, the USA. He didn't go to school because his family was poor. He was very clever and learnt to read and write by himself. At the age of 17, he wanted to be a lawyer. At the age of 21, he moved to Illinois. He worked hard and managed to become a lawyer in 1836. In 1842, he married to Mary Todd. They had four sons. In March, 1861, Lincoln became the 16th President of the United States. Five weeks later, the Civil War began. It was a fight between the North and the South about slavery. Lincoln wanted to stop slavery in the US. On 14th April, 1865, he and his wife were at Ford's Theatre in Washington D.C. John Wilkes Booth, one of the actors, shot the President. Lincoln died nine hours later. He was an honest man and a great leader.

Which question doesn't have an answer in the text above?

- A) What was the reason of the Civil War in the U.S.?
B) What was Abraham Lincoln like?
C) Why didn't he take a good education in his early childhood?
D) Why did John Wilkes Booth shoot Mr. Lincoln?

4.

I. Does a penguin fly?	a. On high hills.
II. Where do eagles live?	b. Their father look after them until they grow up.
III. Who raises the baby penguins?	c. No, but it can swim very well.
IV. How long does a tortoise live?	d. About 50 years, even some species up to 200 years.

Match the questions and answers correctly.

- A) I - a, II - b, III - c, IV - d
 B) I - c, II - b, III - d, IV - a
 C) I - c, II - a, III - b, IV - d
 D) I - a, II - d, III - b, IV - c

5. Choose the best option to fill in the blank



You can trust John. He is an honest friend. He keeps your secrets and he never shares with anybody.

John is a - - - - ?

- A) stubborn
 B) reliable
 C) liar
 D) brave

6.

I like doing sports and being active. I always do karate and go swimming. I don't like playing football like my classmates. They usually play football at school.

Tom

Which option is correct according to the passage?

- A) He always plays swimming.
 B) He never goes swimming.
 C) Tom hates playing football.
 D) Tom dislikes doing karate.

7.



Sabiha Gökçen was born on 22nd March, 1913. She was a successful pilot. She was the first woman pilot who flew in Istanbul during her twenties. She completed her education in Üsküdar Girls College and Civil Aviation School. She got married Kemal Esiner in 1940.

Which question is NOT answered in the passage?

- A) When was she born?
 B) Where did she complete her studies?
 C) Who was her husband?
 D) When did she die?

8.



Choose the best option to fill in the blanks.

- A) dog / whale
- B) giraffe / chameleon
- C) fox / lion
- D) eagle / monkey

9.



Tonny : - - - - ?

Alex : They live in Arctic.

Tonny : What do they eat to survive?

Alex : They eat fish and sea creatures from sea.

Choose the best option to fill in the blank.

- A) How can you feed polar bears
- B) Are polar bears mammal
- C) Where do polar bears live
- D) Should we protect polar bears

10.

	08.00 - 12.00 a.m.	02.00 - 04.00 p.m.	9.00 - 11.00 p.m.
Planet Earth	Big Bang Theory	Mutants	Life in Sahara Desert
BBC News	Iran's Regime Changes	How to stop Civil Wars	United Nations Negotiation
TNT	Love of a Stupid Couple	Chef Sandra in the kitchen	Survivor 2018
Cartoon Network	Tom and Jerry	Mickey Mouse	Popeyes

Which option is false according to the chart?

- A) There is a cooking program on TNT.
- B) You can watch funny cartoons on Cartoon Network all day long.
- C) Planet Earth shows scientific programs to its spectators.
- D) People never watch cartoons at nights.

DAHA FAZLASINI İSTEYENLERE



FOTOKOPİ ÇEKMEK
HAK İHLALIDIR
İSLEYEN ZEKÂ
EYTED
EĞİTİM YATIRIMI VE TEKNOLOJİLERİN İZLENİMLİ

Ostim Mahallesi 1207. Sokak
No: 3/C-D Ostim / ANKARA

Tel: (0312) 395 13 36
Fax: (0312) 394 10 04

[f @isleyenzekayayinlari](https://www.facebook.com/isleyenzekayayinlari)

[@isleyenzekayayinlari](https://www.instagram.com/isleyenzekayayinlari)

[@isleyenzekaa](https://www.twitter.com/isleyenzekaa)

7. SINIF DENEME SINAVI

SAYISAL BÖLÜM



2. OTURUM

DERS ADI	SORU SAYISI	TOPLAM SORU SAYISI	SINAV SÜRESİ (DAKİKA)
Matematik	20	40	80
Fen Bilimleri	20		

AÇIKLAMA

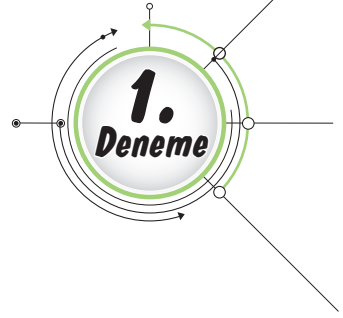
1. Bu kitapçıkta 7. sınıf sayısal bölüm testi bulunmaktadır.
2. Bu kitapçıkta testlerde yer alan her sorunun yalnızca bir doğru cevabı vardır.
3. Cevap kâğıdı üzerindeki kodlamaları kurşun kalemle yapınız.

Adı :

Soyadı :

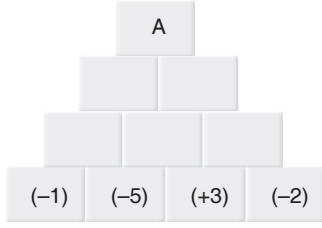
Sınıfı / Şubesi :

Öğrenci No :

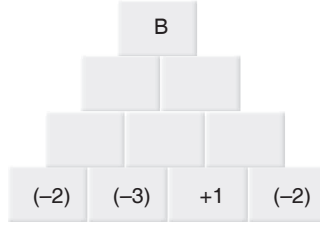


Bu testte 20 soru vardır. Cevaplarınızı cevap kâğıdına işaretleyiniz.

1.



Şekil - I



Şekil - II

Yukarıda verilen Şekil - I'de yanyana gelen kutular üzerinde yazılan sayıların toplamı bir üstündeki kutuda bulunan sayıyı vermekte; Şekil - II'de ise yanyana gelen kutular üzerinde yazılan sayıların çarpımı bir üstündeki kutuda bulunan sayıyı vermektedir.

Buna göre kutulardaki sayılardan A ve B sayıları bulunduğunda, $\frac{B}{A}$ işleminin sonucu için aşağıdakilerden hangisi doğrudur?

- A) Sonuç iki basamaklı en küçük tam sayıdır.
- B) Sonuç; iki basamaklı en küçük pozitif tam sayıdır.
- C) Sonuç; 12'dir.
- D) Sonuç en büyük rakama eşittir.

2. $a < b < 0 < c$

sıralaması ile verilen rasyonel sayılar aşağıdakilerden hangisi olabilir?

	a	b	c
A)	$-\frac{99}{100}$	$-\frac{999}{1000}$	$\frac{3}{2}$
B)	$-\frac{21}{30}$	$-\frac{14}{9}$	$\frac{1}{3}$
C)	$-\frac{103}{102}$	$-\frac{101}{100}$	$\frac{1}{12}$
D)	$-\frac{9}{15}$	$-\frac{12}{28}$	$\frac{18}{24}$

3.



Limonata

Vişne suyu


$3\frac{1}{6}$ litrelik limonata $\frac{1}{6}$ litrelik bardaklara dolduruluyor.

$5\frac{1}{3}$ litrelik vişne suyu ise x litrelik bardaklara dolduruluyor.

Toplamda 27 bardak tam olduğuna göre x kaçtır?

- A) $\frac{1}{3}$
- B) $\frac{2}{3}$
- C) $\frac{4}{3}$
- D) 2

4. **Bilgi** : Hava sıcaklığı deniz seviyesinden yukarıya doğru çıkıldıkça her 200 metrede 1°C azalmaktadır.



Dağcı Ahmet, tırmanışını yaptıktan sonra deniz seviyesinden 1800 m yükseklikte mola veriyor. Bu noktadaki hava sıcaklığı -15°C 'dir.

Ahmet 2600 metre yükseklikteki bu dağın zirvesine çıktığında bu noktada ölçülecek olan hava sıcaklığı ile deniz seviyesindeki sıcaklık farkı kaç derece olur?

- A) -25°C B) -19°C C) -15°C D) -13°C

5. $-6 < a < 5$ şartını sağlayan tüm a tam sayıları (0 hariç) birer kez kullanılarak aşağıdaki boş kutulara yazılacaktır.

8	-24	15	
			→ 8
			→ -18
			→ 20

Karelerin dışındaki okla gösterilen sayılar, o satırdaki veya sütundaki sayıların çarpımını ifade etmektedir.

Buna göre yeşil, sarı ve mavi boyalı yerlere gelecek tam sayıların toplamı aşağıdakilerden hangisi olabilir?

- A) -6 B) -3 C) 3 D) 6

- 6.

$$\frac{3}{8}$$

○ 0,75

$$-\frac{17}{25}$$

○ 3,25

$$-1\frac{3}{5}$$

○ -1,6

$$\frac{13}{4}$$

○ 0,375

○ -0,68

Yukarıda verilen rasyonel sayıların ondalık gösterim olarak eşiti bulunacaktır.

Tüm eşleşmeler doğru yapıldıktan sonra açığa kalan ondalık sayı hangisi olur?

- A) 0,75 B) 0,375
C) -1,6 D) 3,25